



HOEKENWERK GELDREKENEN

Tot 1000 euro en eurocent

Meester Warre
www.meesterwarre.be



@meesterwarre



Meester Warre

Uitleg hoekenwerk

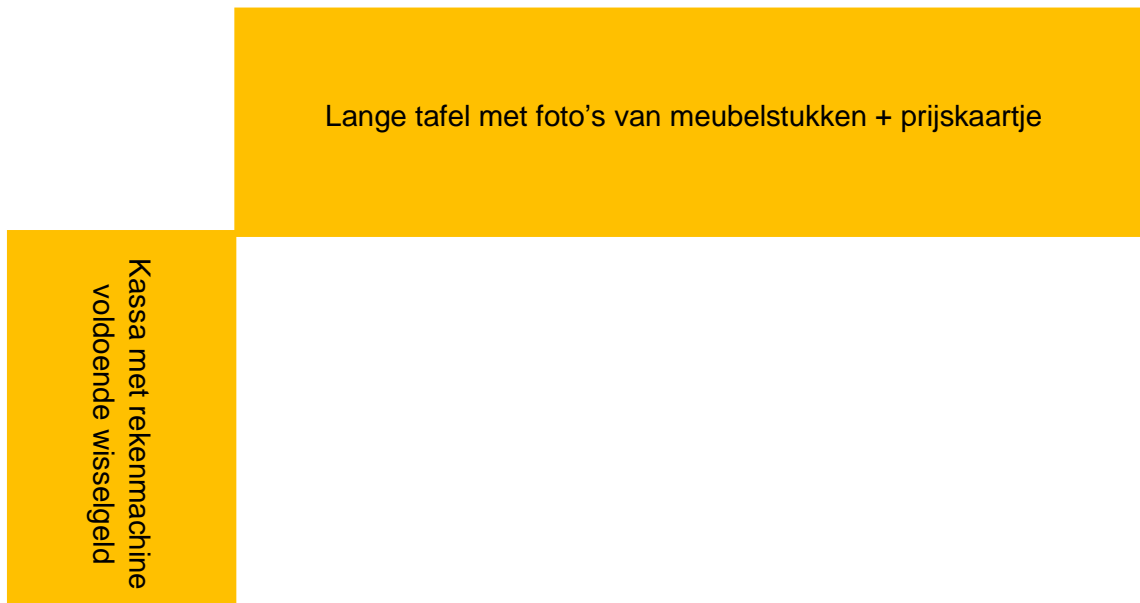
Het hoekenwerk dat in deze bundel uitgeschreven werd bestaat uit drie hoeken. Er wordt geoefend op gepast betalen en correct teruggeven tot 1000 euro(cent). De kinderen blijven ongeveer 15 minuten in elke hoek en schuiven dan door. Dit zijn de hoeken:

- **Hoek 1 - winkelen:**

In de klas is een meubelwinkel gebouwd. Op een lange tafel liggen foto's van verschillende meubelstukken die aangekocht kunnen worden met daarbij de prijs (zie bijlage). Er staan minstens twee leerlingen aan de kassa en er zijn minstens twee leerlingen die inkopen doen. Geef beide partijen voldoende geldbriefjes en muntstukken om te gebruiken.

De leerlingen die inkopen doen, mogen maximum 3 meubelstukken aankopen. Ze mogen de €1000 niet overschrijden. Daarna gaan ze naar de kassa. Met een rekenmachine mogen de kinderen aan de kassa de totaalprijs uitrekenen. De winkelaars betalen met een biljet naar keuze (gepast of niet gepast) en de leerlingen aan de kassa geven correct terug indien nodig.

Voorbeeld van een winkeltje



- **Hoek 2 – oefenen via computermeester**

Voor deze hoek heb je een digitaal klasbord of een laptop/Chromebook nodig. Surf naar computermeester en ga op zoek naar spelletjes die te maken hebben met geldrekenen. Je kan onderstaande links gebruiken.

Tip: alles rond metend rekenen staat verzameld onder het tabblad 'meten'

→ Geld tellen

<https://www.computermeester.be/hoeveel-euro-zie-je.htm>


→ Gepast betalen

https://www.computermeester.be/betalen_met_euros.htm

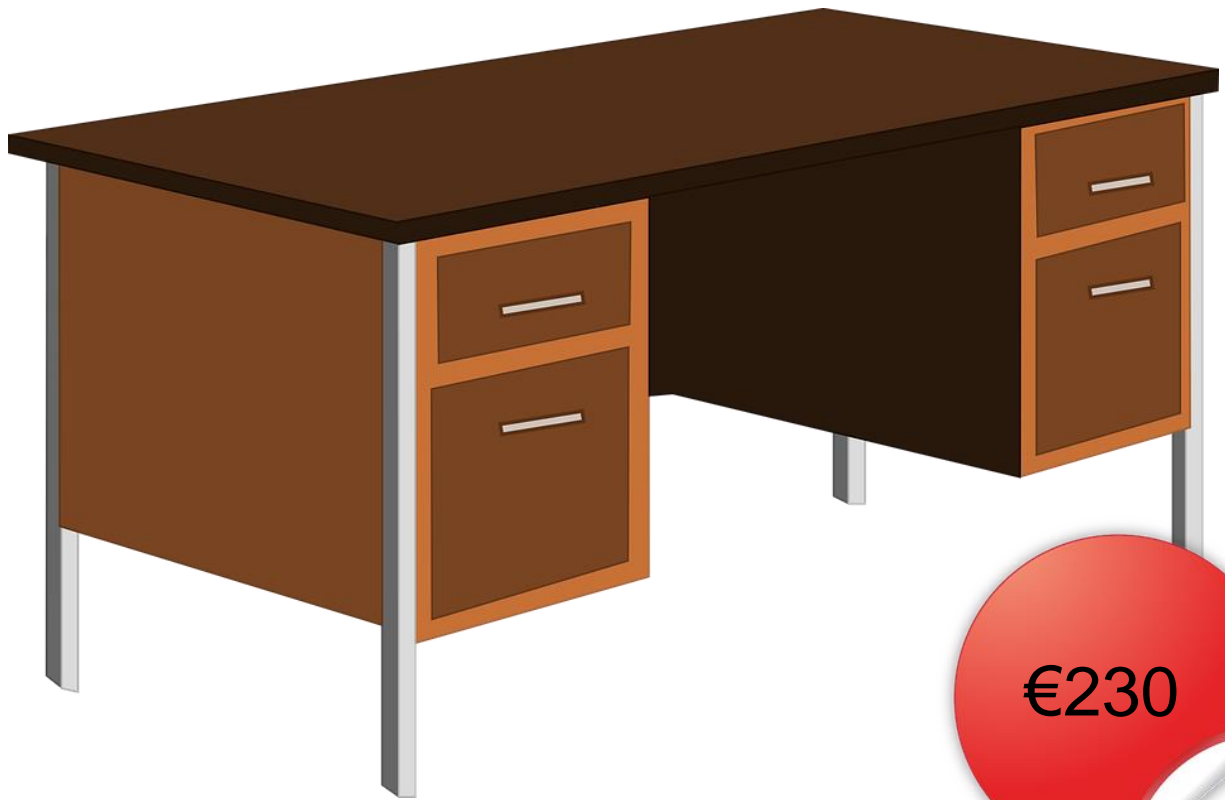
- **Hoek 3 – rekeningen correct aflezen**

De leerlingen vullen het werkblad (zie bijlage) samen in. Ze gebruiken hiervoor de bijhorende rekeningen.

Bijlage hoek 1 – meubelstukken + prijskaartje



€175



€230




€95,45



€320



€165, 90



€482,30

Vraag 1: bekijk de rekening en beantwoord de vragen.



Hoeveel moet de klant in totaal betalen?

.....

Wat is het duurste product op de rekening?

.....

De klant betaalde met een briefje van €50 en een briefje van €20. Hoeveel kreeg hij terug?

.....

Vraag 2: vanavond gaan we met ons gezin eten in het frietkot. Bekijk het menu en beantwoord de vragen.



Dit is onze volledige bestelling: 3x kleine friet, 2x maxi friet, 5x mayonaise (€1,40), 4x boulet, 1x chickfingers. Hoeveel betalen we voor deze bestelling?

.....

We betalen met een biljet van €100. Wat krijgen we dan terug?

.....