



GEPAST BETALEN

Correctiesleutel

Meester Warre
www.meesterwarre.be



@meester_warre



Meester Warre

Uitleg bij dit bestand

Deze bundel helpt leerlingen van het eerste leerjaar om op een speelse en duidelijke manier met geld om te gaan. In herkenbare situaties oefenen de kinderen met geldrekenen. Ze leren prijzen aflezen, geldbedragen herkennen en gepast betalen met muntstukken en biljetten.

De bundel bevat drie soorten opdrachten:

- Gepast betalen met de euro.
- Gepast betalen met de eurocent.
- Een kassaticket lezen en gepast betalen.

Op elke oefenpagina staan producten met prijzen tot 20 euro (of 20 eurocent). De leerlingen kijken naar de prijzen en leggen of tekenen in het voorziene kader de juiste muntstukken en/of biljetten die samen precies dat bedrag vormen. De bundel kan gebruikt worden als herhalings- of oefenmateriaal, tijdens hoekenwerk of als differentiatie voor leerlingen die extra ondersteuning nodig hebben.

In deze correctiesleutel wordt geen gebruik meer gemaakt van de muntstukken ter waarde van 1 en 2 eurocent, omdat deze in het dagelijkse leven steeds minder gebruikt worden. De oplossingen die hier getoond worden zijn altijd de versies met zo weinig mogelijk muntstukken en/of biljetten. Er zijn ook andere oplossingen mogelijk!

Opdracht

Bas gaat naar het eerste leerjaar. Hij koopt nieuwe schoolspullen.
Kijk naar de prijs en leg de juiste biljetten/muntstukken in het kader.



Deze rugzak kost **18 euro**.



Deze pennenzak kost **8 euro**.



Deze sportzak kost **19 euro**.





Deze slijper kost **7 euro**.

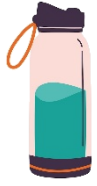


Dit potlood kost **4 euro**.



Een pak gommen kost **16 euro**.





Deze drinkfles kost **9 euro**.



Deze brooddoos kost **12 euro**.



Deze kleurpotloden kosten **13 euro**.





Deze lijmstift kost **4 euro**.



Dit tekenboek kost **17 euro**.


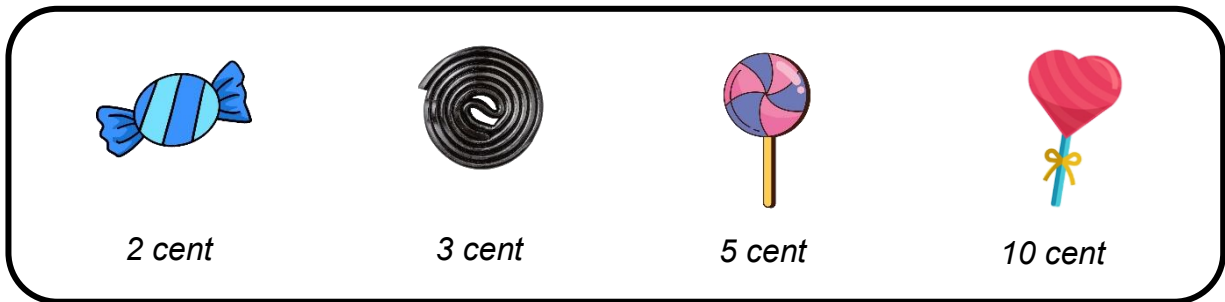


Deze sportschoenen kosten **20 euro**.



Opdracht

Kijk goed naar de prijzen van het snoep. Reken uit hoeveel de kinderen moeten betalen. Leg daarna de juiste muntstukken in het vak.




= 10 cent



= 20 cent



= 15 cent



Opdracht

Vijf kinderen gaan naar de supermarkt. Reken uit hoeveel ze moeten betalen.
Leg de juiste biljetten/muntstukken in het kader.

Dit moet Noor betalen	
Pak appels	5 euro
Pak peren	7 euro
Totaal	12 euro



Dit moet Ben betalen	
Groot wit brood	3 euro
Fles melk	2 euro
Pot choco	6 euro
Totaal	11 euro



Dit moet Nel betalen

Pak koffie	9 euro
Theezakjes	8 euro
Totaal	17 euro



Dit moet Tim betalen

Snoepje	6 cent
Lolly	9 cent
Totaal	15 cent



Dit moet Ella betalen

Pak pasta	3 euro
Pot saus	11 euro
Totaal	14 euro



Dit moet Sofie betalen

Pak koeken	7 euro
Zak snoep	9 euro
Totaal	16 euro

